


CUADERNO DE EJERCICIOS



Aprende las Fracciones

fichasdematemáticas.org



$$\frac{1}{2}$$



$$\frac{1}{3}$$



$$\frac{1}{4}$$




$$\frac{1}{5}$$




$$\frac{1}{6}$$



$$\frac{1}{7}$$



$$\frac{1}{8}$$



$$\frac{1}{9}$$



$$\frac{1}{10}$$

Nombre:


Fecha:Curso:

Fracciones

Relaciona con una flecha la fracción correcta:



$$\frac{1}{2} \quad \frac{4}{7} \quad \frac{6}{7}$$



$$\frac{1}{3} \quad \frac{4}{3} \quad \frac{3}{2}$$



$$\frac{5}{4} \quad \frac{3}{5} \quad \frac{4}{5}$$



$$\frac{3}{9} \quad \frac{9}{2} \quad \frac{2}{9}$$

Nombre:


Fecha:Curso:

Fracciones


Relaciona con una flecha la fracción correcta:



$$\frac{3}{5}$$



$$\frac{2}{2}$$



$$\frac{4}{8}$$



$$\frac{3}{4}$$



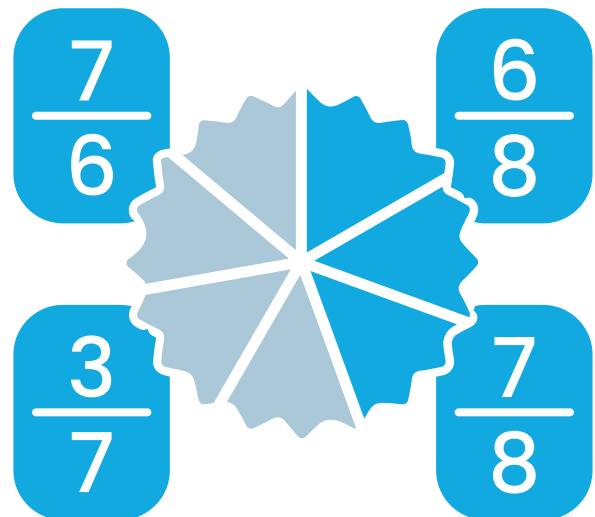
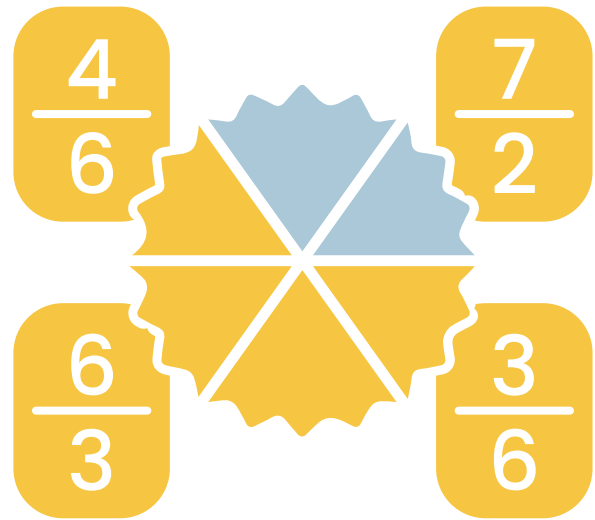
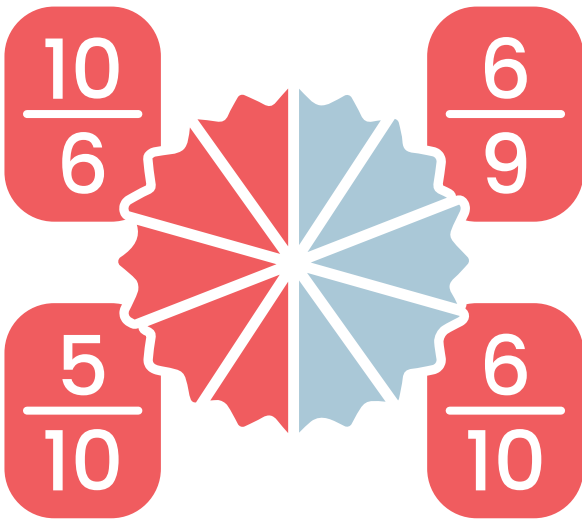
$$\frac{3}{6}$$

Nombre:

Fecha:Curso:

Fracciones

Marca o colorea la fracción correcta:




Nombre:

Fecha:Curso:


Fracciones

Marca o colorea la fracción correcta:


$$\frac{5}{6}$$




$$\frac{1}{3}$$




$$\frac{3}{9}$$




$$\frac{3}{7}$$



$$\frac{3}{5}$$



$$\frac{2}{8}$$



Nombre:

Fecha:Curso:

Fracciones

Relaciona con una flecha la fracción correcta



$$\frac{6}{9}$$

$$\frac{7}{10}$$

$$\frac{4}{9}$$



$$\frac{1}{3}$$

$$\frac{4}{3}$$


$$\frac{2}{4}$$



$$\frac{4}{5}$$

$$\frac{6}{4}$$

$$\frac{2}{6}$$



$$\frac{3}{8}$$

$$\frac{4}{7}$$

$$\frac{8}{4}$$

Nombre:

Fecha:Curso:

Fracciones

Relaciona con una flecha la fracción correcta:



$$\frac{6}{7}$$



$$\frac{4}{9}$$



$$\frac{2}{8}$$



$$\frac{4}{6}$$



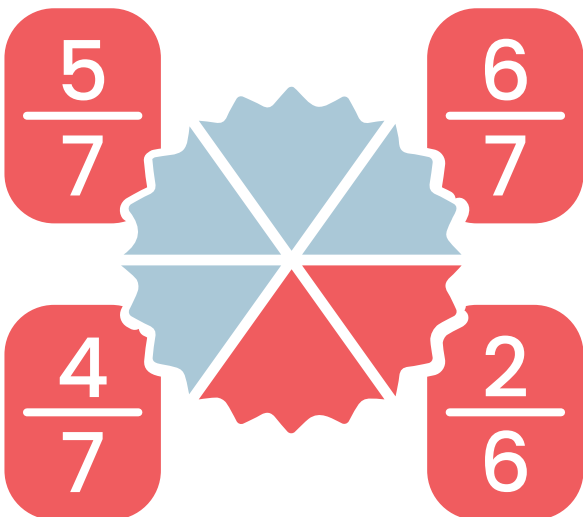
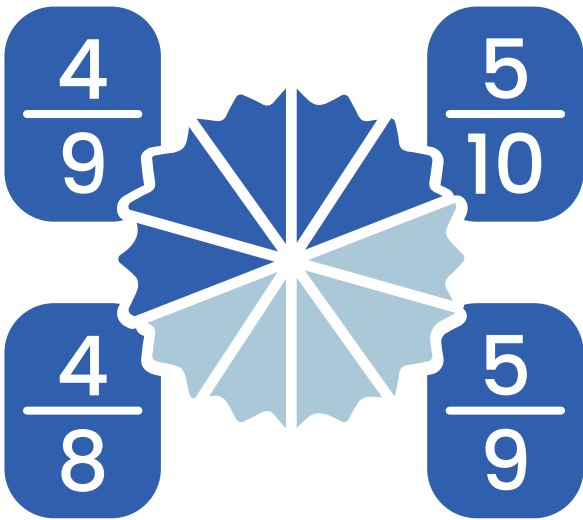
$$\frac{5}{10}$$

Nombre:

Fecha:Curso:

Fracciones

Marca o colorea la fracción correcta:




Nombre:

Fecha:Curso:


Fracciones

Colorea las siguientes fracción correcta:


$$\frac{2}{10}$$




$$\frac{4}{5}$$




$$\frac{3}{6}$$



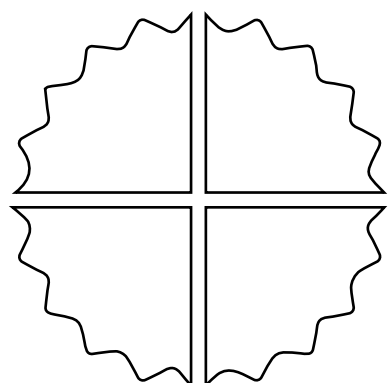
$$\frac{2}{2}$$



$$\frac{5}{9}$$



$$\frac{3}{4}$$




Nombre:

Fecha:Curso:

Fracciones

Relaciona con una flecha la fracción correcta



$$\frac{3}{7}$$

$$\frac{8}{3}$$

$$\frac{6}{8}$$



$$\frac{9}{2}$$

$$\frac{5}{9}$$

$$\frac{9}{7}$$



$$\frac{5}{1}$$

$$\frac{1}{4}$$

$$\frac{3}{5}$$



$$\frac{2}{6}$$

$$\frac{6}{5}$$

$$\frac{6}{7}$$

Nombre:


Fecha:Curso:

Fracciones

Relaciona con una flecha la fracción correcta:



$$\frac{1}{4}$$



$$\frac{2}{10}$$



$$\frac{6}{7}$$



$$\frac{6}{8}$$



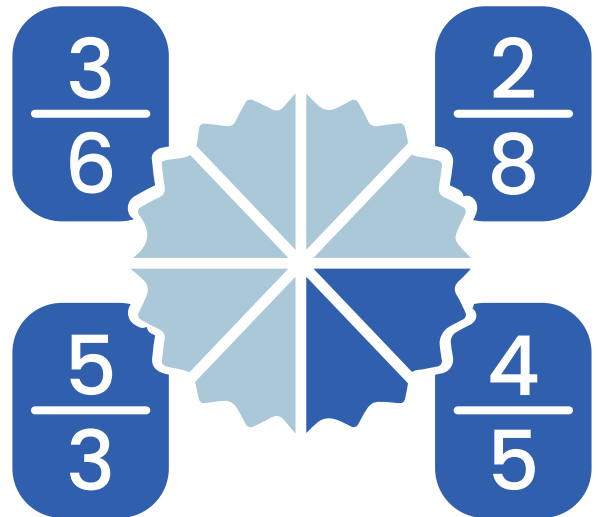
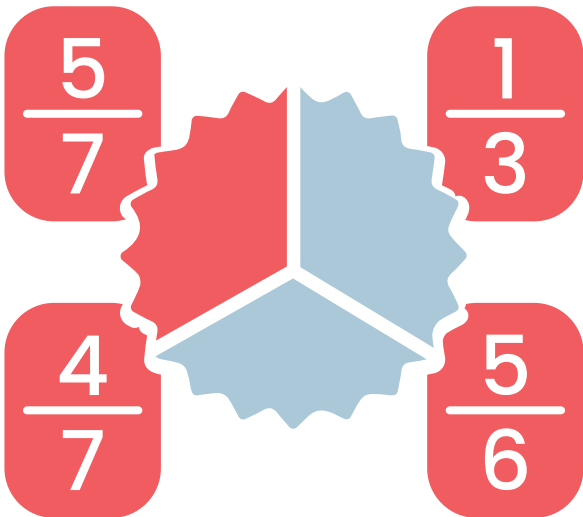
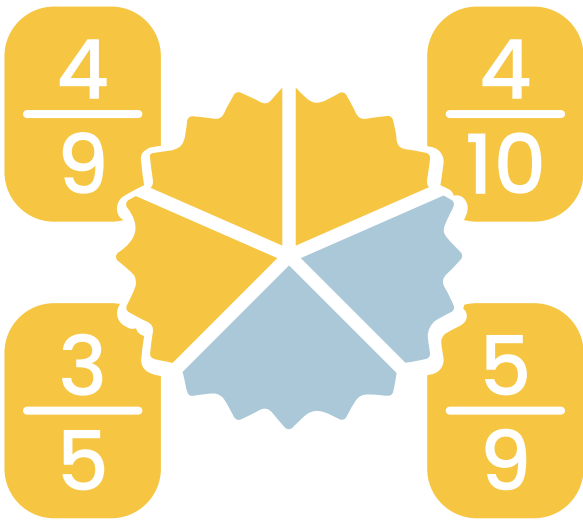
$$\frac{5}{9}$$

Nombre:

Fecha:Curso:

Fracciones

Marca o colorea la fracción correcta:




Nombre:

Fecha:Curso:


Fracciones

Colorea las siguientes fracciones:


$$\frac{5}{7}$$




$$\frac{1}{5}$$




$$\frac{3}{8}$$




$$\frac{5}{10}$$




$$\frac{3}{6}$$



$$\frac{4}{7}$$





Fichasdematematicas.com te ofrece
material gratis para descargar.
Cuadernos con ejercicios de
matemáticas para niños.

fichasdematematicas.org