
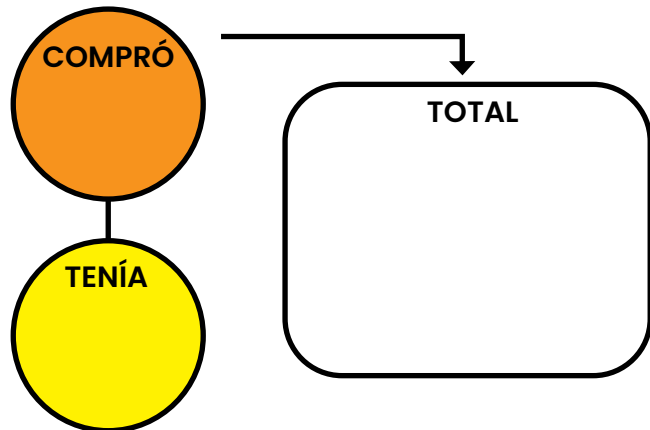


RESOLUCIÓN DE PROBLEMAS 1º DE PRIMARIA

1.- Tengo 8 caramelos. Compro otros 9. ¿ Cuántos caramelos tengo?



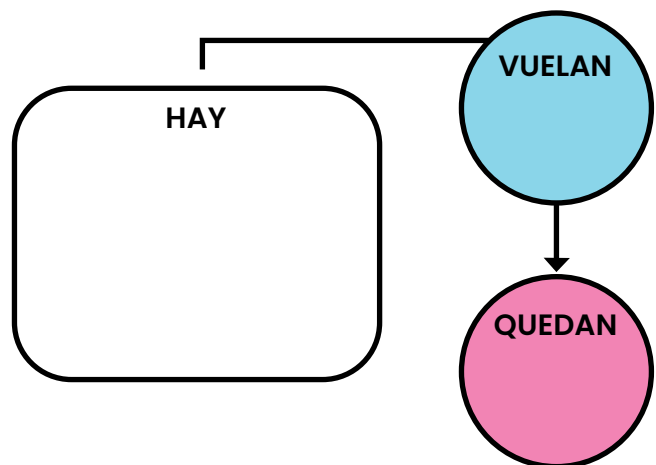
Tengo.....caramelos.



2.-En una rama hay 13 pájaros. Si vuelan 8, ¿ Cuántos pájaros quedan en la rama?

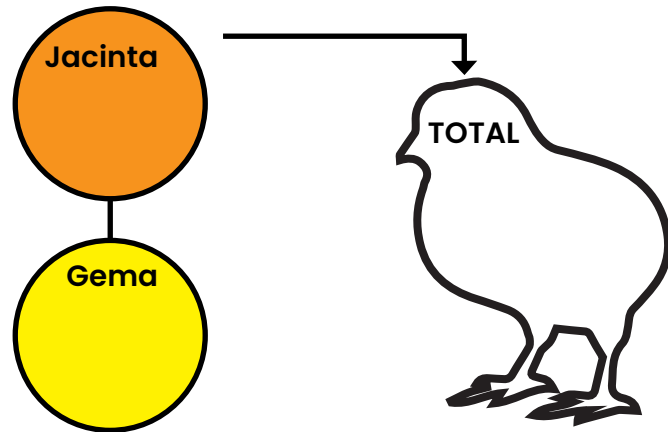


En la rama quedan.....pájaros



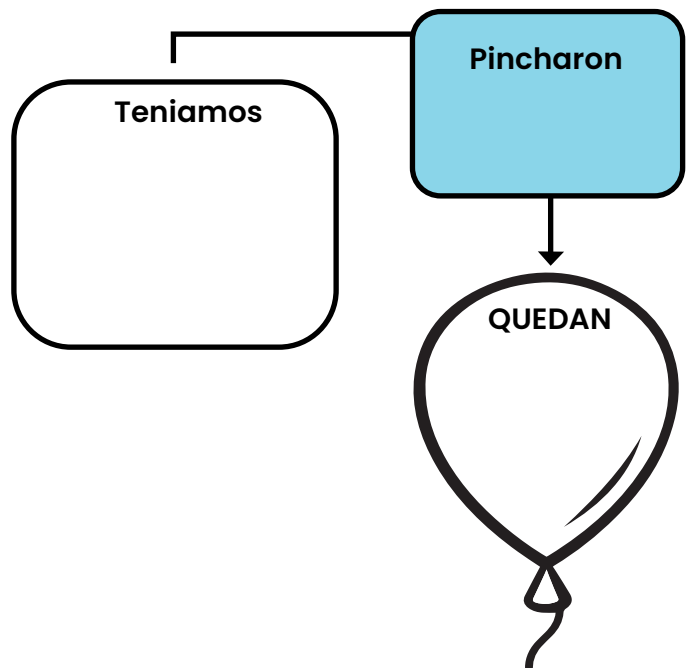
RESOLUCIÓN DE PROBLEMAS 1º DE PRIMARIA

3.- La gallina Jacinta tiene ocho pollitos. La gallina Gema 10.
¿Cuántos tienen las dos?



Entre las dos tienen.....pollitos

4.-Para jugar en el recreo, teníamos 16 globos. Durante el juego se pincharon 9. ¿Cuántos globos nos quedan en el próximo recreo?



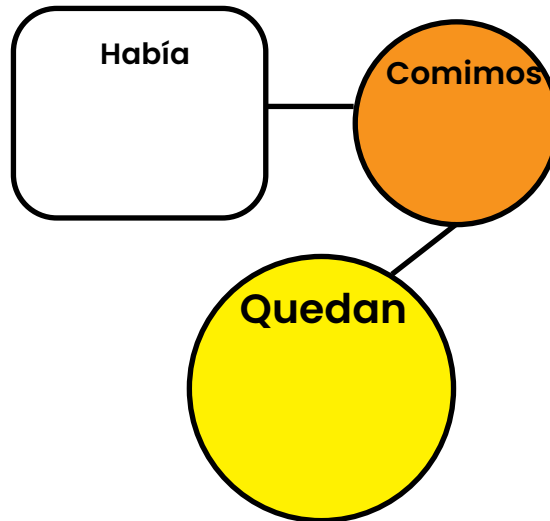
Nos quedan.....globos

RESOLUCIÓN DE PROBLEMAS 1º DE PRIMARIA

5.- En la nevera había 20 yogures. Nos hemos comido de postre en la cena ocho. ¿Cuántos yogures nos quedan en la nevera?



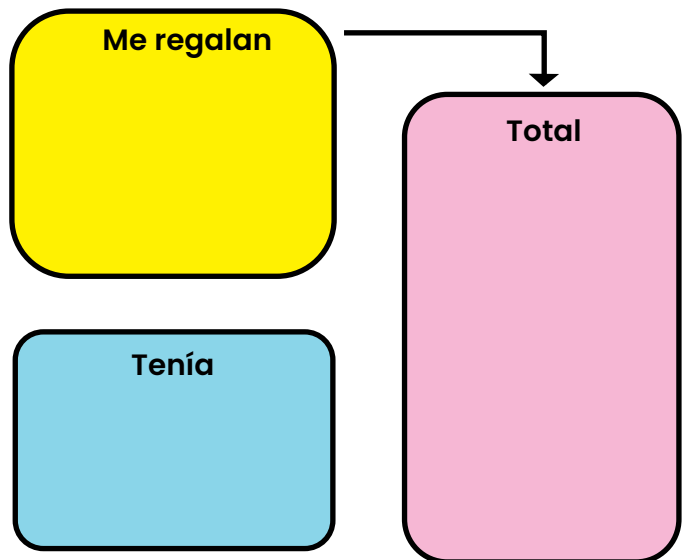
Quedan.....yogures.



6.- En mi pecera tengo 23 peces. Mi padre me regala 12. ¿Cuántos peces tengo ahora?



Ahora tengo.....peces



RESOLUCIÓN DE PROBLEMAS 1º DE PRIMARIA

7.- En una atracción del circo intervienen 13 caballos y 16 elefantes.
¿Cuántos animales intervienen en total?

Caballos

Elefantes

Animales

intervienen.....animales

8.- Juan tiene en su hucha 32 euros. Compra un paquete de cromos que le cuentan 11 ¿Cuántos euros le quedan?



Tiene

Gasta

Queda

Le quedan.....euros

RESOLUCIÓN DE PROBLEMAS 1º DE PRIMARIA

9.- Mi abuela ha colocado 35 ciruelas en el frutero. Si 15 se han estropeado, ¿Cuántas ciruelas quedan para comer?



Quedan.....ciruelas para comer.

10.- Pau Gasol ha metido 21 puntos en la final de los juegos olímpicos. Su hermano Marcos Gasol, 25 ¿Cuántos han conseguido entre los dos?

Han conseguido.....puntos.




11.- En una bandeja hay 32 pasteles. Si nos comemos 25. ¿Cuántos pasteles quedan en la bandeja?



Quedan.....pasteles

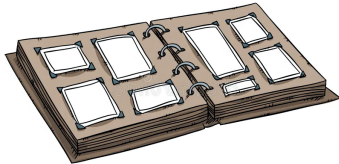
12.-En la pescadería vendieron el lunes 22 kilos de sardina y el martes 35. ¿Cuántos kilos de sardinas se han vendido entre los dos días?

Se ha vendido.....kilos



RESOLUCIÓN DE PROBLEMAS 1º DE PRIMARIA

13.-Antonio tiene un album con 32 cromos y otro con 12.
¿ Cuántos cromos tiene entre los dos?



Tiene.....cromos.

14.-En la primera estantería de un bazar hay colocados 38 jarrones
y en la segunda hay 13. ¿ Cuántos jarros hay en total?

En total hay.....jarrones



15.-En la vuelta ciclista a Andalucía empezaron la carrera 70 ciclistas.
Se han retirado 29. ¿Cuántos ciclistas siguen corriendo?



Siguen corriendo.....ciclistas

16.-Daniel tiene 92 en la hucha y saca 42 para comprar un DVD.
¿Cuántos euros le quedan?

Le quedan euros




RESOLUCIÓN DE PROBLEMAS 1º DE PRIMARIA

17.- En la fiesta de cumpleaños de Clara han colocado 35 globos rojos y 40 azules
¿Cuántos globos han adornado la fiesta?




Solución.....

18.- Tengo una colección de 50 películas Disney y ya he visto 18
¿Cuántos me quedan por ver todavía?



Solución.....

19.- En una frutería hay 82 piñas.
Se han vendido 23. ¿Cuántas piñas habrá en la frutería?



Solución.....

20.- En la perrera municipal había 28 perros. Esta semana han entrado 17 perros más. ¿Cuántos perros hay ahora en la perrera?



Solución.....

21.- El sábado estuve pescando con María. Ella pescó 37 y yo 21.
¿Cuántos peces pescamos entre los dos?



Solución.....

16.- Al puerto de Cadiz llegaron 72 veleros. 21 se averiaron y no pudieron continuar. ¿Cuántos continuaron en la regata?



Solución.....

RESOLUCIÓN DE PROBLEMAS 1º DE PRIMARIA

Señala si estos problemas se resuelven con una suma.

1.- Después de meter en mi hucha 28 euros
¿Cuántos tendré si antes ya había 36?



2.- ¿Cuántas páginas me faltan por leer de
un libro que tiene 61, si hoy he leído ya 20?



3.- ¿Cuántas cajas transporta un camión si 43
son de zapatos y 21 de zapatillas?



4.- ¿Cuántos coches había en un aparcamiento
si entran 62 y ya había 27?



5.- ¿Cuántas cerezas había en el frutero si de las
38 que había nos hemos comido 10?



6.- Tengo un estuche con 30 colores.
¿Cuántos quedarían dentro si saco 12?



7.- Cuando mi hermana cumpla 19 años más.
¿Cuál será su edad si ahora tiene 16 años?



8.- ¿Cuántas fieras hay en el circo si 19 son tigres y
29 son leones?



9.- Después de comerme 8 bollos. ¿Cuántos quedarán
si antes había en la bandeja 19?



10.- En un jardín se van a talar 19 árboles.
¿Cuántos quedarán si antes de la tala había 31?



11.- En un olivar hay 39 olivos. ¿Cuántos habría si
plantamos otros 22?



RESOLUCIÓN DE PROBLEMAS 1º DE PRIMARIA

Fíjate bien en los siguientes problemas. Como puedes comprobar faltan los datos. Completalos para que los puedas resolver.

- 1.- En clase somos.....alumnos y alumnas.....de ellos se han quedado en casa por que están enfermos. ¿Cuántos alumnos han ido hoy a clase?

Solución:.....

- 2.- En el autobús viajaban.....personas. Se han bajado.....en la parada. ¿Cuántas personas van en el autobus?

Solución:.....

- 3.- Luis tiene.....cromos. Su madre le compra un paquete que tiene.....cromos y su hermana Ana, le regala.....¿Cuántos cromos tiene Luis?

Solución:.....

- 4.- Sofía tiene una colección.....playmobil. Su hermana pequeña le pide..... para poder jugar. ¿Cuátos playmobil le quedan a Sofia?

Solución:.....

- 5.- En una pescadería hay.....kilos de sardinas.....de boquerones y de bacaladillas. ¿Cuántos kilos de pescado hay en la pescadería?

Solución:.....

- 6.- El Córdoba C.F. Tiene un platilla con.....jugadores. Se han lesionado..... ¿cuántos jugadores pueden jugar en partido?

Solución:.....

RESOLUCIÓN DE PROBLEMAS 1º DE PRIMARIA

Se nos ha olvidado ponerle la pregunta a estos problemas. Complétalos y después los resuelves.

1.- En un estanque hay 13 patos. Al cabo de un tiempo llegan otros 16.

Solución:.....

2.- En la biblioteca de mi clase hay 77 libros. Los alumnos del 1º se han llevado veintitres. _____

Solución:.....

3.- Mi abuelo me regaló por mi cumpleaños 36 euros y mis tíos 33.

Solución:.....

4.- En la panadería han elaborado hoy 68 donut y han vendido 27.

Solución:.....

5.- Acaban de entrar al cine 16 espectadores. Si ya había dentro 42.

Solución:.....



RESOLUCIÓN DE PROBLEMAS 1º DE PRIMARIA

Inventa ahora un problema para casa una de estas preguntas y despues resuelvelos.

1.- _____

_____ ¿Cuátos euros tenemos entre los dos?

Solución:.....

2.- _____

_____ ¿Cuátos pasajeros lleva ahora el tren?

Solución:.....

3.- _____

_____ ¿Cuátos bombones tengo en la caja?

Solución:.....

4.- _____

_____ ¿Cuátas paginas me quedan aun por leer?

Solución:.....

5.- _____


_____ ¿Cuátos kilos de patatas ha recogido mi abuelo?

Solución:.....



RESOLUCIÓN DE PROBLEMAS 1º DE PRIMARIA

Siguiendo las siguientes normas, crea tú el problema.



1.- Operación: Suma; resultado: 15; Palabras a incluir: Rosas y claveles.


2.- Operación: Resta; resultado: 9; Palabras a incluir: Mesa.

3.- Operación: Suma; resultado: 29; Palabras a incluir: Perdió.

4.- Operación: Resta; resultado: 34; Palabras a incluir: Fotos


RESOLUCIÓN DE PROBLEMAS 1º DE PRIMARIA

- 1.- La cometa de Sofía tiene una cuerda que mide 13 metros y la de Aurora, 5 metros mas. ¿Cuántos metros de cuerda tiene la cometa de Aurora?



Solución:.....

- 2.- Un libro de Tea Stilton cuesta 20 euros y uno de Gerónimo Stilton 10 euros menos. ¿Cuánto cuesta el libro de Gerónimo Stilton?



Solución:.....

RESOLUCIÓN DE PROBLEMAS 1º DE PRIMARIA

- 3.- En una tienda de informática se vendieron la semana pasada 19 tablets y durante esta semana se han vendido 13. ¿Cuántas tablets menos se han vendido esta semana?

Semana
pasada

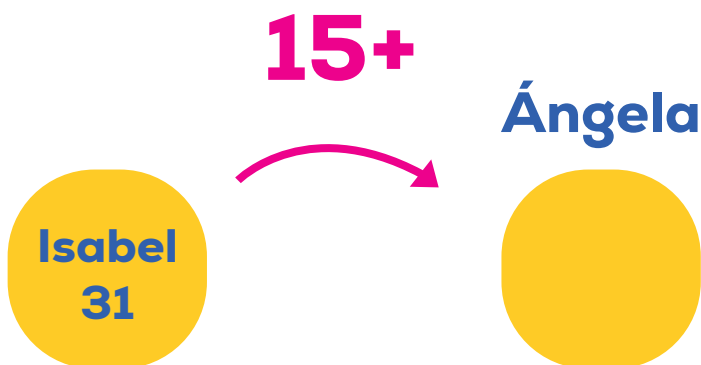


Esta
semana



Solución:.....

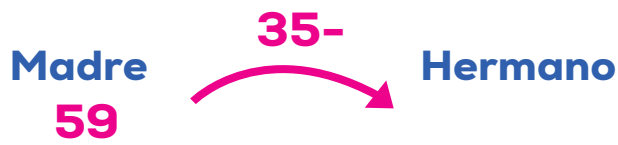
- 4.- Isabel tiene 31 euros y su amiga Ángela 15 euros más. ¿Cuántos euros tiene Ángela?



Solución:.....

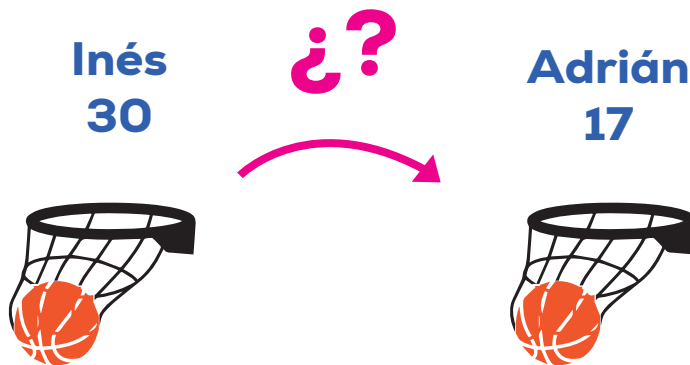
RESOLUCIÓN DE PROBLEMAS 1º DE PRIMARIA

- 5.- Mi madre tiene 59 años y mi hermano mayor 35 años menos.
¿Cuántos años tiene mi hermano mayor?



Solución:.....

- 6.- En un partido de baloncesto Inés ha metido 30 puntos y Adrián 17. ¿Cuántos puntos menos ha metido Adrián?



Solución:.....

RESOLUCIÓN DE PROBLEMAS 1º DE PRIMARIA

- 7.- Mi primo Marcos, que es granjero, tiene 7 establos. En uno hay 81 vacas y en el otro. 31 vacas más. ¿Cuántas vacas hay en el segundo establo?



R:

- 8.- En el zoo de Córdoba hay un león y un tigre. A la semana el León se come 68 kilos de carne y el tigre 31 kilos menos. ¿Cuántos kilos de carne se come el tigre en la semana?



R:

- 9.- En el colegio de Marta hay 61 ordenadores y en el de Cristina 33 ordenadores más. ¿Cuántos ordenadores hay en el colegio de Cristina?



R:

- 10.- Jugando a la comba Antonio ha dado 26 saltos seguidos y Cristina ochenta y tres. ¿Cuántos saltos menos ha dado Antonio?



R: